






Procedimento concursal comum para ocupação de 32 postos de trabalho, em regime de contrato de trabalho em funções públicas por tempo indeterminado do mapa de pessoal da Câmara Municipal de Aveiro - Aviso (extrato) n.º 21072/2021 - D.R. II Série - n.º 218 - 10/11

R.

GRELHA DA CORREÇÃO DA PROVA PRÁTICA DE CONHECIMENTOS					
REFERÊNCIA I – 2 PT ASSISTENTE OPERACIONAL - ÁREA DE SINALÉTICA					
QUESTÕES	PROVA PRÁTICA	CRITÉRIOS DE CORREÇÃO	COTAÇÃO		
			Resposta correta	Resposta Incorreta	
1	Indique qual ou quais o(s) Equipamento(s) de Proteção Individual (EPI) que deverá utilizar na realização do seu trabalho diário.	<ul style="list-style-type: none"> • Capacete; • Botas ou sapatos com proteção; • Proteção auricular; • Óculos ou viseira; • Colete; • Luvas; • Joelheiras; • Cinta lombar; 	4,00 Cada equipamento identificado corretamente tem a cotação de 0,50 valores	0,00	4,00
2	Assinale com uma cruz quais as imagens que indicam as posturas corretas no levantamento / movimentação de cargas	Das 6 imagens apresentadas só 3 são corretas. As 3 imagens corretas são as que estão à direita;	2,00 Se não acertar as 3 imagens corretas, passa a ter a cotação de 0,70 valores por cada figura identificada corretamente;	0,00	2,00
3	Em cada uma das imagens indique o nome de cada um dos sinais representados;   	<ul style="list-style-type: none"> • Sinal de Perigo - Perigos diversos; • Sinal de Proibição - Transito proibido; • Sinal de STOP; 	Cada sinal identificado corretamente tem a cotação de 1,00 valor;	0,00	3,00
4	Qual a altura mínima a que a base inferior do sinal deve estar do chão de um passeio público?	• 2,20 m;	2,00	0,00	2,00





Procedimento concursal comum para ocupação de 32 postos de trabalho, em regime de contrato de trabalho em funções públicas por tempo indeterminado do mapa de pessoal da Câmara Municipal de Aveiro - Aviso (extrato) n.º 21072/2021 - D.R. II Série - n.º 218 - 10/11

[Handwritten signature]

GRELHA DA CORREÇÃO DA PROVA PRÁTICA DE CONHECIMENTOS

REFERÊNCIA L – 2 PT ASSISTENTE OPERACIONAL - ÁREA DE SINALÉTICA

QUESTÕES	PROVA PRÁTICA	CRITÉRIOS DE CORREÇÃO	COTAÇÃO		TOTAL						
			Resposta correta	Resposta Incorreta							
5	Qual a diferença entre o sinal da fig. 1 e o sinal da fig. 2?  	<ul style="list-style-type: none"> • Ambos sinais são de perigo e indicam estreitamento de faixa à esquerda; • O sinal da fig. 2 é um sinal temporário e é usado quando há obras ou trabalhos na via (situações pontuais); 	2,00 Cada um, dos dois critérios de correção acertado, tem a cotação de 1 valor;	0,00	2,00						
6	Identifique pelos seus nomes os materiais expostos na mesa 1.	<ol style="list-style-type: none"> 1 - Cimento 2 - Brita 3 - Areia 	2,00 Se não identificar os 3 materiais corretamente, passa a ter a cotação de 0,70 valores por cada material identificado corretamente;	0,00	2,00						
7	Se tivesse de colocar um sinal na via pública como executaria o maciço para chumbar o prumo?	<ul style="list-style-type: none"> • Abre um buraco com 40 cm de profundidade; • Coloca 10 cm de brita e calca; • Faz uma quantidade de massa de cimento e areia na proporção 3:1 (3 partes de areia para 1 de cimento); • Coloca o prumo no buraco nivelando o mesmo; • Enche o buraco com a massa de cimento garantindo o nivelamento do prumo; • Remata o passeio com finalização do tamponamento do buraco com o material igual ao passeio; 	<table border="1"> <tr> <td><50%</td> <td>>= 50% e <70%</td> <td>>=70%</td> </tr> <tr> <td>0,50</td> <td>1,00</td> <td>2,00</td> </tr> </table>	<50%	>= 50% e <70%	>=70%	0,50	1,00	2,00	0,00	2,00
<50%	>= 50% e <70%	>=70%									
0,50	1,00	2,00									



Procedimento concursal comum para ocupação de 32 postos de trabalho, em regime de contrato de trabalho em funções públicas por tempo indeterminado do mapa de pessoal da Câmara Municipal de Aveiro - Aviso (extrato) n.º 21072/2021 - D.R. II Série - n.º 218 - 10/11

GRELHA DA CORREÇÃO DA PROVA PRÁTICA DE CONHECIMENTOS							
REFERÊNCIA L – 2 PT ASSISTENTE OPERACIONAL - ÁREA DE SINALÉTICA							
QUESTÕES	PROVA PRÁTICA	CRITÉRIOS DE CORREÇÃO	COTAÇÃO			TOTAL	
			Resposta correta		Resposta Incorreta		
			<50%	>= 50% e <70%	>=70%		
8	Identifique o(s) procedimento(s) que deve ter antes de iniciar os trabalhos de pintura de uma passadeira numa via pública?	<ul style="list-style-type: none"> Sinalização dos trabalhos a distancia adequada e de forma bem visível; Colocação de cones, entre a passadeira a pintar e a sinalética colocada, ao longo de uma linha na diagonal com o eixo da via por forma a encaminhar o trânsito para a outra metade da estrada. Garantir, seja por meios luminosos seja por meios humanos, que o trânsito flui sem conflitos nem perigo de acidentes, na faixa que ficou livre; Executava a pintura da passadeira na metade da faixa de rodagem que tinha sido cortada ao trânsito para o efeito; Esperava o tempo adequado para que a tinta secasse sem levantar qualquer tipo de sinalização e mantendo o sistema de orientação dos veiculos na faixa de rodagem livre; Após a secagem da tinta repetia todo o processo, desde o 1º item, para a outra metade da estrada; 	1,00	2,00	3,00	0,00	3,00
COTAÇÃO						20,00	